



**CÂMARA MUNICIPAL DE SÃO JOSÉ DO RIO PRETO**

ESTADO DE SÃO PAULO

CONCURSO PÚBLICO

## **003. PROVA OBJETIVA**

### **AGENTE LEGISLATIVO (DIRETORIA LEGISLATIVA)**

- ◆ Você recebeu sua folha de respostas e este caderno, contendo 50 questões objetivas, um tema de redação a ser desenvolvido e a folha de redação para transcrição do texto definitivo.
- ◆ Confira seu nome e número de inscrição impressos na capa deste caderno e nas folhas de respostas e de redação.
- ◆ Quando for permitido abrir o caderno, verifique se está completo ou se apresenta imperfeições. Caso haja algum problema, informe ao fiscal da sala.
- ◆ A folha de redação deverá ser destacada com cuidado e assinada apenas no local indicado; qualquer identificação ou marca feita pelo candidato no corpo deste caderno ou no verso da folha de redação, que possa permitir sua identificação, acarretará a atribuição de nota zero à redação.
- ◆ É vedado, em qualquer parte do material recebido, o uso de corretor de texto, de caneta marca-texto ou de qualquer outro material similar.
- ◆ Redija o texto definitivo e preencha a folha de respostas com caneta de tinta azul ou preta. Os rascunhos não serão considerados na correção. A ilegibilidade da letra acarretará prejuízo à nota do candidato.
- ◆ A duração das provas objetiva e de redação é de 4 horas e 30 minutos, já incluído o tempo para o preenchimento da folha de respostas e a transcrição do texto definitivo.
- ◆ Só será permitida a saída definitiva da sala e do prédio após transcorridos 75% do tempo de duração das provas.
- ◆ Ao sair, você entregará ao fiscal a folha de redação, a folha de respostas e este caderno, podendo levar apenas o rascunho de gabarito, localizado em sua carteira, para futura conferência.
- ◆ Até que você saia do prédio, todas as proibições e orientações continuam válidas.

**AGUARDE A ORDEM DO FISCAL PARA ABRIR ESTE CADERNO DE QUESTÕES.**

Nome do candidato \_\_\_\_\_

Prédio \_\_\_\_\_

Sala \_\_\_\_\_

Carteira \_\_\_\_\_

Inscrição \_\_\_\_\_



## CONHECIMENTOS GERAIS

### LÍNGUA PORTUGUESA

Leia o texto para responder às questões de números **01** a **10**.

Quando vieram ao mundo, eram de uma feiura que chegava a comover; o corpo pelado, a pele enrugada, os olhos cerrados. Mas poucos bebês foram tão esperados como as duas ararinhas-azuis que nasceram no interior paulista, em endereço mantido em sigilo. São as primeiras geradas no Brasil nos últimos 14 anos, quando a espécie foi considerada extinta na natureza, com o fim do último exemplar, em Curaçá, na Bahia.

Os bebês feiosos em nada lembravam a ararinha Blu, famosa personagem do filme *Rio*. Nasceram com 15 gramas, mas com pouco menos de dois meses já haviam ganhado corpo e penas azuis, que as tornam tão valiosas no mercado paralelo – cada uma chega a valer 100 mil euros (cerca de R\$ 325,4 mil reais).

O nascimento dos filhotes, ainda sem nome, foi fruto de um esforço de instituições do Brasil, da Alemanha e do Catar, que integram o “Projeto Ararinha na Natureza”, coordenado pelo Instituto Chico Mendes de Conservação da Biodiversidade, com patrocínio da Vale.

As ararinhas-azuis eram encontradas somente na Caa-tinga, em Curaçá. Além dos predadores naturais, como gaviões, enfrentaram dificuldades para reprodução: foram expulsas por abelhas do oco das árvores onde faziam ninhos. Mas foi a captura para o tráfico a causa de seu desaparecimento na natureza. Sobraram 90 ararinhas em cativeiro – 70 delas no Catar, 9 na Alemanha e 11 no Nest, criadouro científico no interior de São Paulo, cadastrado no Instituto, cujo endereço não é divulgado para não atrair caçadores e traficantes de aves.

A analista ambiental, Patrícia Serafini, afirma que as ararinhas-azuis são monogâmicas e entre elas há uma química. O que em laboratório parece ideal, às vezes não dá certo. No caso das aves que estão no Nest, Blu e Flor, a união indicada pelos testes funcionou. A fêmea começou a pôr ovos. Foram três posturas, oito ovos – dois vingaram. Pai e mãe cuidam dos bebês, que passaram os primeiros 20 dias no ninho.

(O Estado de S. Paulo. 21.12.2014. Adaptado)

**01.** Lendo-se o texto, conclui-se que o título coerente com os sentidos expressos é:

- (A) O homem, predador eterno da natureza.
- (B) Os testes suspeitos do Projeto Ararinha-azul.
- (C) A inconsciência da população de Curaçá.
- (D) A analista ambiental desaconselha os testes de laboratórios.
- (E) Química entre casal de aves faz nascer duas ararinhas-azuis.

**02.** O sigilo do endereço das aves-bebês foi mantido porque

- (A) os cientistas gananciosos querem se aproveitar do experimento.
- (B) os mercadores de aves cobiçam a plumagem azul das ararinhas.
- (C) as ararinhas-azuis ajudam na conservação da biodiversidade.
- (D) outros países têm interesse em preservar a espécie.
- (E) a Vale exigiu, pois investiu muito dinheiro na experiência.

**03.** De acordo com a frase – ... poucos bebês foram tão esperados como as duas ararinhas-azuis... –, é correto afirmar que os bebês feiosos

- (A) produziram grande expectativa nas pessoas.
- (B) inspiraram cuidados exagerados dos cientistas.
- (C) agitaram o mercado paralelo nos países europeus.
- (D) provocaram euforia nos habitantes de Curaçá.
- (E) deixaram a analista ambiental comovida.

**04.** As ararinhas-azuis foram extintas porque

- (A) se alimentavam unicamente do mel de abelhas.
- (B) eram alvo de predadores e da ação de traficantes.
- (C) nasciam e eram devoradas pelas águias.
- (D) derrubaram as árvores onde faziam ninho.
- (E) deixaram de ser atrativo para o tráfico.

**05.** Quanto ao emprego ou não da crase, as frases:

- Quando vieram ao mundo, eram de uma feiura que levava...
- O Instituto Chico Mendes dedica-se...

completam-se, correta e respectivamente, em

- (A) a comoção./ à conservar a biodiversidade.
- (B) à comoção./ a conservar à biodiversidade.
- (C) à comoção./ à conservar à biodiversidade.
- (D) à comoção./ a conservar a biodiversidade.
- (E) a comoção./ a conservar a biodiversidade.

**06.** A regra de concordância verbal de – Pai e mãe cuidam dos bebês... – repete-se em:

- (A) Sobraram 90 ararinhas em cativeiro.
- (B) Em nada lembravam a ararinha Blu os bebês feiosos.
- (C) Alemanha, Brasil e Catar integram o “Projeto Ararinha na Natureza”.
- (D) As ararinhas-azuis eram encontradas apenas na Caatinga.
- (E) Patrícia Serafini coordena o programa de cativeiro.

07. Assinale a alternativa que completa corretamente a lacuna da frase – Se os cientistas \_\_\_\_\_ o endereço em sigilo, talvez o nascimento dos bebês não atraia caçadores e traficantes.

- (A) mantiverem
- (B) mantiver
- (C) mantinham
- (D) mantivessem
- (E) mantiveram

08. A expressão em destaque em – O nascimento dos filhotes **foi fruto de** um esforço de instituições do Brasil, da Alemanha e do Catar... – está corretamente substituída, quanto à regência verbal, em:

- (A) O nascimento dos filhotes originou-se pelo esforço de instituições do Brasil, da Alemanha e do Catar...
- (B) O nascimento dos filhotes originou-se o esforço de instituições do Brasil, da Alemanha e do Catar...
- (C) O nascimento dos filhotes originou-se ao esforço de instituições do Brasil, da Alemanha e do Catar...
- (D) O nascimento dos filhotes originou-se do esforço de instituições do Brasil, da Alemanha e do Catar...
- (E) O nascimento dos filhotes originou-se sobre o esforço de instituições do Brasil, da Alemanha e do Catar...

09. Substituindo-se por um pronome pessoal os termos em destaque na frase – ... cujo endereço não é divulgado para não atrair **caçadores e traficantes de aves**. –, obtém-se versão correta, de acordo com a norma-padrão, em:

- (A) ... para não os atrair.
- (B) ... para não atrair-nos.
- (C) ... para não atrair ele.
- (D) ... para não atrair-os.
- (E) ... para não lhes atrair.

10. A expressão em destaque no trecho – ... endereço mantido **em sigilo**. – pode ser substituída por

- (A) displicentemente.
- (B) possivelmente.
- (C) minuciosamente.
- (D) secretamente.
- (E) astuciosamente.

Leia o trecho para responder às questões de números 11 a 13.

### *Uma onda de criatividade*

Antes da web, pessoas comuns só podiam publicar ideias e criações se convencessem guardiões dos portais da mídia a lhes dar destaque. Mas a web deu a elas uma plataforma global para publicar seus escritos, fotos, áudios e vídeos, e as pessoas agarraram a oportunidade.

(Folha de S. Paulo. 09.03.2014. Adaptado)

11. Assinale a alternativa correta quanto à colocação do pronome pessoal.

- (A) A web não dava-lhes oportunidade.
- (B) Era a web que dava-lhes oportunidade.
- (C) Lhes dava, sim, oportunidade a web.
- (D) A web sempre dava-lhes oportunidade.
- (E) A web não lhes dava oportunidade.

12. Assinale a alternativa em que há entre as frases sentido contrário.

- (A) Pessoas comuns podem publicar ideias. – Pessoas comuns podem divulgar ideias.
- (B) Uma onda de criatividade tomou conta de todos. – Uma onda de inspiração apossou-se de todos.
- (C) A web deu destaque às pessoas. – A web ignorou as pessoas.
- (D) A web ofereceu publicidade às pessoas. – A web franqueou publicidade às pessoas.
- (E) Pessoas comuns convenceram os guardiões dos portais. – Pessoas comuns persuadiram os guardiões dos portais.

13. Em – ... as pessoas agarraram a oportunidade. –, observe-se emprego de sentido figurado, o que se repete em:

- (A) A criança agarrou-se à mãe quando viu a figura do ET na tela do cinema.
- (B) A macaca-mãe e o filhote estavam amedrontados e agarravam-se aos galhos da árvore.
- (C) Assim que foi convocado, o jogador agarrou a unhas e dentes o convite para compor a equipe.
- (D) Quando querem protestar, os presidiários agarram-se às grades e começam a gritar.
- (E) O peão agarrou-se ao animal e não mais o soltou, até que fosse dado como vencedor.

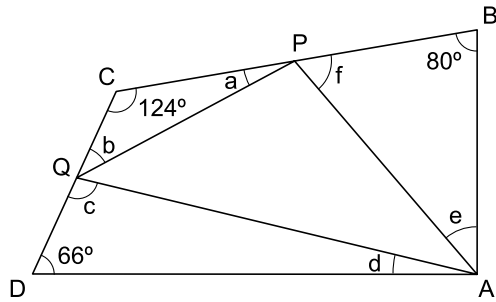


(Folha de S.Paulo, 05.03.2014)

14. Interpretando-se as falas das personagens, conclui-se que
- (A) as ferramentas digitais facultam ao cidadão participar da democracia.
  - (B) o Facebook não fez bom negócio ao pagar tão caro pelo WhatsApp.
  - (C) o proprietário do Facebook concorda com os ideais de democracia.
  - (D) o WhatsApp será majoritário na aquisição de ferramentas digitais.
  - (E) o conceito de democracia pressupõe distribuição igualitária de poder.
15. Assinale a alternativa que completa corretamente, de acordo com a modalidade-padrão, a frase – As empresas são poucas, mas
- (A) nenhuma pleiteiam concentração de poder.
  - (B) os internautas atualmente são muitos.
  - (C) cada uma procuram exercer a democracia.
  - (D) os usuários são tanto que não se pode contá-los.
  - (E) são o mais possivelmente democrática.

16. Uma brincadeira antiga com números começava com a pergunta:
- “Quanto é a metade de dois mais dois?”
- E o interpelado quase sempre respondia com “2”, quando a resposta correta é “3”. Essa brincadeira usa a ordem de precedência dos operadores, que exige que a divisão venha antes da soma, quando não há parênteses envolvidos.
- Usando a ordem de precedência dos operadores, e considerando que não há parênteses envolvidos, para a pergunta:
- “Quanto é a décima segunda parte de mil duzentos e doze subtraída de doze vezes nove mais doze?”
- A resposta correta é
- (A) –151.
  - (B) –85.
  - (C) 5.
  - (D) 120.
  - (E) 762.
17. O hall de um edifício comercial possui três elevadores que servem andares diferentes. Entre sair do hall, atender aos andares predeterminados e voltar ao hall para reiniciar as viagens, cada um desses elevadores, em situações normais, demora 4 minutos, 10 minutos e 12 minutos, respectivamente. Em um dia em que os elevadores operaram normalmente, esses elevadores encontravam-se no hall às 9h12min. O próximo horário em que os três elevadores estiveram, ao mesmo tempo, no hall, foi às
- (A) 9h38min.
  - (B) 9h44min.
  - (C) 9h50min.
  - (D) 10h06min.
  - (E) 10h12min.
18. Uma doçaria produz bolos de três tamanhos. O bolo mais produzido é o médio, que representa 40% dos bolos fabricados no mês. São produzidos 110 bolos grandes por mês, e o número de bolos pequenos produzidos é 10 a menos do que o número de bolos médios. No total, essa doçaria produz, por mês, um número de bolos igual a
- (A) 400.
  - (B) 500.
  - (C) 600.
  - (D) 700.
  - (E) 800.
19. O produto do número de irmãos pelo número de irmãs em uma família é igual a 24. Se a diferença entre o número de irmãos e irmãs é igual a 5, o número de irmãos mais irmãs dessa família é igual a
- (A) 8.
  - (B) 9.
  - (C) 10.
  - (D) 11.
  - (E) 12.

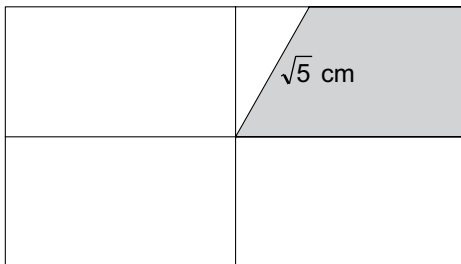
20. Na figura, os pontos P e Q pertencem, respectivamente, aos lados BC e CD do quadrilátero ABCD.



A soma dos ângulos internos do triângulo APQ é  $180^\circ$ , que é o valor da soma dos ângulos internos de qualquer triângulo.

O valor de  $a + b + c + d + e + f$  é igual a

- (A)  $270^\circ$ .  
 (B)  $300^\circ$ .  
 (C)  $330^\circ$ .  
 (D)  $360^\circ$ .  
 (E)  $390^\circ$ .
21. O retângulo da figura tem lado maior de medida 7 cm e lado menor medindo 4 cm e está dividido por dois segmentos.

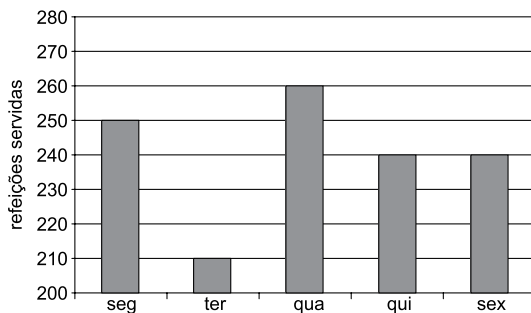


Esses segmentos ligam os pontos médios dos lados opostos do retângulo, e o trapézio destacado tem a base maior sobre um dos segmentos e outros dois lados sobre lados do retângulo.

A área desse trapézio, em  $\text{cm}^2$ , vale

- (A) 4,5.  
 (B) 5.  
 (C) 5,5.  
 (D) 6.  
 (E) 6,5.
22. Três amigos que fazem aniversário no mesmo dia fizeram uma comemoração especial, pois a soma de suas idades passou a ser 100 anos. O mais velho tem 12 anos a mais do que o mais novo, e a diferença entre as idades dos dois amigos mais novos é de apenas 1 ano. A diferença, em anos, entre os dois amigos mais velhos, é
- (A) 9.  
 (B) 10.  
 (C) 11.  
 (D) 12.  
 (E) 13.

23. A soma das massas de quatro irmãos é 264 kg. Considerando os três irmãos mais pesados, a média aritmética de suas massas é 71 kg, o que permite concluir que a massa, em kg, do irmão mais leve, é
- (A) 51.  
(B) 54.  
(C) 57.  
(D) 60.  
(E) 63.
24. Para completar uma coleção de revistas antigas, Daniel precisou procurar, por cinco anos, em sebos da cidade. No primeiro ano, ele conseguiu o triplo de revistas conseguidas no segundo ano. No terceiro ano, ele conseguiu 77 revistas, e no quarto ano, a metade do que conseguiu no primeiro ano. O total das revistas dessa coleção é cinco vezes maior do que o total conseguido no quarto ano. Sabendo-se que no último ano Daniel conseguiu os 43 últimos exemplares, o número de exemplares conseguidos no segundo ano é um número múltiplo de
- (A) 14.  
(B) 15.  
(C) 16.  
(D) 17.  
(E) 18.
25. O gráfico representa o número de refeições servidas por um restaurante na primeira semana útil do mês.



Em relação ao total de refeições servidas nessa semana, o número de refeições servidas na quinta-feira corresponde a

- (A) 4%.  
(B) 8%.  
(C) 12%.  
(D) 16%.  
(E) 20%.

**26.** A Constituição Federal, por meio de seu art. 5º, assegura a todos:

- (A) o direito à obtenção de certidões em repartições públicas, para defesa de direitos e esclarecimentos de situações de interesse coletivo.
- (B) que a pequena e média propriedade rural, assim definida em lei, desde que trabalhada pela família, não será objeto de penhora para pagamento de débitos decorrentes de sua atividade produtiva.
- (C) a proteção, nos termos da lei, às participações individuais em obras coletivas e à reprodução da imagem e voz humanas, salvo nas atividades desportivas.
- (D) o direito de petição aos Poderes Públicos em defesa de direito ou contra ilegalidade ou abuso de poder, independentemente do pagamento de taxas.
- (E) a competência do júri para o julgamento dos crimes culposos contra a vida.

**27.** O art. 37 da Constituição Federal estabelece que

- (A) as funções de confiança e os cargos em comissão, a serem exercidas ou preenchidos exclusivamente por servidores ocupantes de cargo efetivo, destinam-se apenas às atribuições de direção, chefia e assessoramento.
- (B) às pessoas portadores de deficiência é assegurado o direito de se inscreverem em concurso público para provimento de cargo, sendo-lhes reservadas 20% (vinte por cento) das vagas oferecidas no concurso.
- (C) não é permitida a contratação por tempo determinado na administração pública direta e indireta.
- (D) os vencimentos dos cargos do Poder Legislativo e do Poder Executivo não poderão ser superiores aos pagos pelo Poder Judiciário.
- (E) não é garantido ao servidor público militar o direito à livre associação sindical.

**28.** José é professor aposentado da rede municipal de ensino e recebe proventos em decorrência de sua aposentadoria no valor de R\$ 2.000,00. Em virtude de seus conhecimentos na área do ensino, José, após ter sido aposentado, foi convidado para assumir determinado cargo em comissão na prefeitura do município em que reside, para o qual seria remunerado no valor de R\$ 4.000,00. Como seu ganho somaria R\$ 6.000,00, valor abaixo do teto constitucional, José ficou animado com o convite. Nos termos da Constituição Federal, José

- (A) caso aceite o convite e seja nomeado para o cargo em comissão, só perderá o cargo, após três anos de efetivo exercício, em virtude de sentença judicial transitada em julgado.
- (B) pode perceber proventos de aposentadoria e, simultaneamente, a remuneração do cargo em comissão.
- (C) não pode ocupar o cargo em comissão por já ser servidor aposentado.
- (D) pode ocupar o cargo em comissão, mas desde que solicite sua desaposentação.
- (E) não pode ser nomeado para o cargo em comissão, pois a investidura em cargo ou emprego público depende de aprovação prévia em concurso público de provas ou de provas e títulos.

**29.** João é servidor público do Município de São José do Rio Preto e, cumprindo ordem de seu superior hierárquico, utilizou seu veículo para executar serviço externo no próprio Município, por força das atribuições de seu cargo. Como bom conhecedor do Estatuto a que está vinculado, João solicitou e teve deferido o direito

- (A) ao reembolso de transporte.
- (B) à ajuda de custo.
- (C) à diária.
- (D) ao auxílio transporte.
- (E) à gratificação de locomoção.



30. Alfredo, servidor público do Município de São José do Rio Preto, ausentou-se do serviço de sua repartição para fins de estudo, em outro Município, durante 3 anos, com a autorização do Prefeito. Passado 1 ano de seu retorno ao serviço, Alfredo solicitou sua exoneração. Neste caso, nos termos do Estatuto dos Servidores Municipais de São José do Rio Preto, Alfredo
- (A) não poderia ter se ausentado para fins de estudo.
  - (B) não poderia ter se ausentado, para fins de estudo, pelo prazo superior a 2 anos.
  - (C) não terá concedida a exoneração antes de decorrido período igual ao do afastamento para fins de estudo, ressalvada a hipótese do ressarcimento da despesa havida com seu afastamento.
  - (D) não terá direito a que o tempo de seu afastamento para estudo seja contado como de efetivo serviço para todos os fins.
  - (E) terá direito à remuneração do cargo apenas nos 6 primeiros meses de afastamento.
31. Maria é servidora pública municipal e, em virtude de grave doença de sua madrasta, solicitou ao órgão competente licença por motivo de doença em pessoa da família. Sobre seu pedido, é correto afirmar que, nos termos do Estatuto dos Servidores Municipais de São José do Rio Preto
- (A) a licença somente será deferida, pelo prazo legal, se a assistência direta de Maria à sua madrasta for indispensável, mas independe do fato de poder ou não ser prestada simultaneamente com o exercício do cargo.
  - (B) a licença, se deferida, será concedida sem prejuízo da remuneração do cargo efetivo até 30 dias, podendo ser prorrogada por idêntico período, mediante parecer da junta média.
  - (C) a licença, se deferida, será concedida sem prejuízo da remuneração do cargo efetivo até 60 dias, podendo ser prorrogada por mais 30 dias, mediante parecer da junta média.
  - (D) a licença, se deferida, será concedida com prejuízo da remuneração do cargo efetivo, pelo prazo máximo de 90 dias.
  - (E) não pode ser deferida, uma vez que a licença só pode ser concedida por motivo de doença em cônjuge ou companheiro, ascendente, descendente e colateral consanguíneo ou afim até segundo grau civil.
32. Sobre as responsabilidades do servidor, dispõe o Estatuto dos Servidores Municipais de São José do Rio Preto que
- (A) o funcionário responde civil, penal e administrativa-mente pelo exercício regular ou irregular de suas atribuições que venha a causar dano ao erário ou a terceiros.
  - (B) a responsabilidade civil decorre de ato do funcionário que, independentemente de culpa, resulte em prejuízo ao erário.
  - (C) a indenização de prejuízo dolosamente causado ao erário será compensada mediante o desconto de seus vencimentos ou proventos, não podendo o desconto sofrer qualquer limitação, exceto quanto ao valor do prejuízo.
  - (D) a obrigação de reparar o dano estende-se aos sucessores e contra eles será executada, até o limite do valor do dano.
  - (E) as sanções civis, penais e administrativas poderão cumular-se, sendo independentes entre si.
33. Nos termos do Regimento Interno da Câmara Municipal de São José do Rio Preto, as Comissões Especiais
- (A) são Comissões Temporárias.
  - (B) são Comissões Processantes.
  - (C) são Comissões Permanentes.
  - (D) têm competência para receber, avaliar e investigar denúncias relativas à ameaça ou violação de direitos humanos.
  - (E) têm competência para receber petições, reclamações, representações ou queixas de qualquer pessoa contra atos que ferem os direitos dos cidadãos e cidadãs.
34. Sobre as sessões legislativas, o Regimento Interno da Câmara Municipal de São José do Rio Preto estabelece que
- (A) a legislatura compreende 1 sessão legislativa que se inicia em 1º de fevereiro e termina em 20 de dezembro de cada ano.
  - (B) a legislatura compreende 2 sessões legislativas: a primeira tem início em 1º de fevereiro e término em 30 de junho de cada ano; e a segunda tem início em 21 de julho e término em 20 de dezembro de cada ano.
  - (C) a legislatura compreende 4 sessões legislativas, com início cada uma em 1º de fevereiro e término em 20 de dezembro de cada ano.
  - (D) as sessões ordinárias só poderão ser abertas com a presença de, no mínimo, metade dos membros da Câmara.
  - (E) terão a duração máxima de duas horas, podendo ser prorrogadas a requerimento escrito de qualquer Vereador, aprovado pelo Plenário.

- 35.** O Regimento Interno da Câmara Municipal de São José do Rio Preto estabelece que as proposições podem ser submetidas a diferentes regimes de tramitação. Sobre tais regimes, é correto afirmar que
- (A) o regime de “Urgência” implica dispensa de exigências regimentais, salvo a de número legal e de parecer, para que determinado projeto seja imediatamente considerado, a fim de evitar grave prejuízo ou perda de sua oportunidade.
  - (B) o regime de “Urgência Especial” implica redução dos prazos regimentais e se aplica somente aos projetos de autoria do Executivo submetidos ao prazo de quarenta e cinco dias para apreciação.
  - (C) o requerimento de “Urgência Especial” depende, para a sua aprovação, do quórum da maioria absoluta dos vereadores.
  - (D) o regime de “Urgência Especial” pode ser requerido por qualquer vereador.
  - (E) ao lado dos regimes de “Urgência” e “Urgência Especial”, estão previstos ainda os regimes de “Prioridade” e “Ordinária”.
- 36.** Sobre o processo legislativo, assinale a alternativa que preenche, correta e respectivamente, as lacunas da seguinte regra extraída do Regimento Interno da Câmara Municipal de São José do Rio Preto:
- “Decorrido o prazo de \_\_\_\_\_, contados da data do recebimento do respectivo autógrafa, sem a sanção do Prefeito, considerar-se-á sancionado o projeto, sendo obrigatória a sua promulgação pelo Presidente da Câmara dentro de \_\_\_\_\_”.
- (A) cinco dias úteis ... vinte e quatro horas
  - (B) dez dias úteis ... quarenta e oito horas
  - (C) dez dias ... vinte e quatro horas
  - (D) quinze dias úteis ... quarenta e oito horas
  - (E) trinta dias ... vinte e quatro horas
- 37.** Segundo a Lei Orgânica de São José do Rio Preto, é de iniciativa exclusiva do Prefeito as leis que disponham sobre
- (A) matéria tributária.
  - (B) alterações à Lei Orgânica Municipal.
  - (C) defesa do consumidor.
  - (D) defesa do meio ambiente.
  - (E) segurança pública.
- 38.** Nos termos da Lei Orgânica de São José do Rio Preto, compete ao Prefeito
- (A) dar denominação a próprios, vias e logradouros públicos ou alterá-la.
  - (B) autorizar referendo e convocar plebiscito.
  - (C) conceder licença ao Vice-Prefeito.
  - (D) criar, transformar e extinguir cargos, empregos e funções públicas da administração direta e indireta, bem como a fixação da respectiva remuneração.
  - (E) aprovar projetos de edificação e planos de loteamento, arruamento e zoneamento urbano ou para fins urbanos.
- 39.** A Lei Orgânica de São José do Rio Preto estabelece que as contas do Município ficarão, anualmente, à disposição de qualquer contribuinte, para exame e apreciação, durante o prazo de
- (A) dez dias.
  - (B) trinta dias.
  - (C) quarenta e cinco dias.
  - (D) sessenta dias.
  - (E) noventa dias.
- 40.** A declaração de utilidade pública ou necessidade social para fins de desapropriação ou de servidão administrativa, segundo a Lei Orgânica de São José do Rio Preto, é de competência do Prefeito e deve ser expedida por meio de
- (A) Decreto Legislativo.
  - (B) Decreto.
  - (C) Lei Delegada.
  - (D) Portaria.
  - (E) Autorização.

41. Em uma planilha do MS-Excel 2010, na sua configuração padrão, conforme ilustra a figura, na célula D2 foi aplicada a fórmula

=SOMA(A1:B2)/SE(MÉDIA(C1:C4)>4;B1\*(SOMA(B2:B3)/5);B2/2)

	A	B	C	D
1	2	5	9	4
2	1	2	6	2
3	2	3	4	2
4	1	2	1	2
5				

Alterando o valor da célula C1 de 9 para 1, o novo valor da célula D2 será

- (A) 10
- (B) 11
- (C) 15
- (D) 16
- (E) 20

42. No MS-Word 2010, a partir da sua configuração padrão, em um documento que está sendo editado, existe no guia Exibição um grupo chamado “Modos de Exibição de Documentos” com 5 modos: Layout de Impressão, Leitura em Tela Inteira, Layout da Web e mais duas opções.

Assinale a alternativa correta que contém discriminadas as duas opções faltantes.

- (A) Estrutura de Itens e Layout de Assuntos
- (B) Estrutura de Tópicos e Rascunho
- (C) Estrutura de Parágrafos e Rascunho
- (D) Layout de Itens e Tópicos da Web
- (E) Layout de Rascunho e Tópicos da Web

43. Uma planilha de controle do MS-Excel 2010, em sua configuração padrão, utilizada por uma empresa de vendas, a coluna A contém o nome do vendedor, a coluna B contém o salário fixo do vendedor, a coluna C contém o valor total da venda de cada vendedor, na coluna D contém a comissão sobre a venda e a coluna E contém o salário total que cada vendedor deverá receber, sendo composta pelo salário fixo mais a comissão sobre a venda. Para incentivar as vendas, a empresa oferece para o vendedor a seguinte oportunidade:






se o valor da venda for superior a R\$ 5.000,00, a comissão será de 20% sobre o valor vendido, caso contrário a comissão será de apenas 10% sobre o valor vendido.

	A	B	C	D	E
1	Nome do Vendedor	Salário Fixo	Valor da Venda	Comissão sobre a Venda	Salário Total
2	Alberto Silva	R\$ 1.200,00	R\$ 8.500,00	R\$ 1.700,00	R\$ 2.900,00
3	Clarice dos Santos	R\$ 1.500,00	R\$ 7.300,00	R\$ 1.460,00	R\$ 2.960,00
4	Douglas Ferreira	R\$ 1.400,00	R\$ 12.000,00	R\$ 2.400,00	R\$ 3.800,00
5	Fatima da Costa	R\$ 800,00	R\$ 3.000,00	R\$ 300,00	R\$ 1.100,00
6	Moacir Pereira	R\$ 1.800,00	R\$ 6.000,00	R\$ 1.200,00	R\$ 3.000,00
7	Renata Noriega	R\$ 2.000,00	R\$ 4.500,00	R\$ 450,00	R\$ 2.450,00
8	Tadeu Mendes	R\$ 1.900,00	R\$ 5.500,00	R\$ 1.100,00	R\$ 3.000,00
9					


A fórmula a ser aplicada na célula D2, para calcular a comissão sobre a venda é

- (A) =SOMASE(C2 = 5000; 20%; 10%)
- (B) =SOMASE(C2 = 5000; 0,2; 0,1)
- (C) =SE(C2 > 5000; C2 \* 0,2; C2 \* 0,1)
- (D) =SE(C2 # 5000; C2 \* 0,2; C2 \* 0,1)
- (E) =SE(C2 < 5000; C2 \* 0,2; C2 \* 0,1)

44. No MS-Word 2010, a partir da sua configuração padrão, em um documento que está sendo editado, no guia “Página Inicial”, no grupo “Parágrafo”, o ícone que permite desenhar uma Tabela é

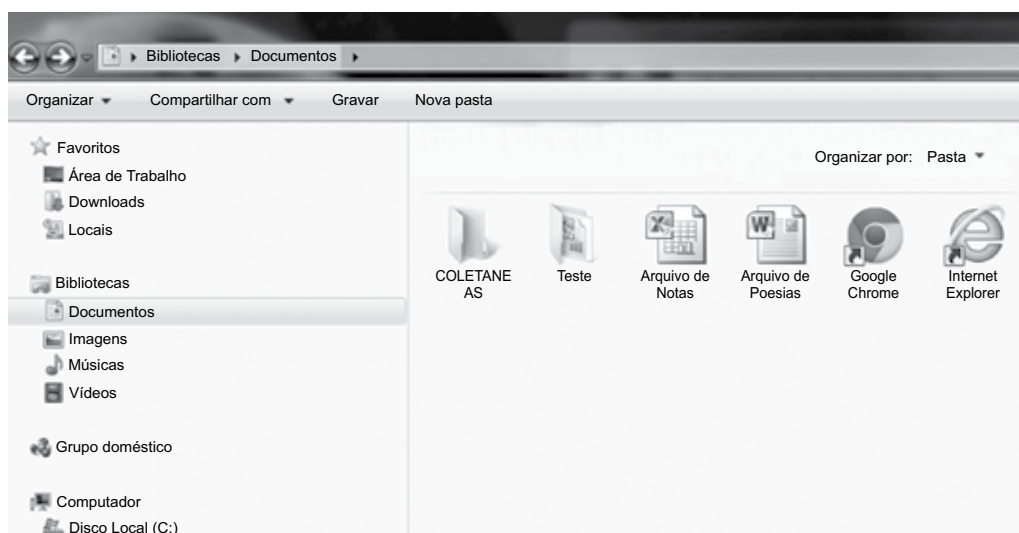
- (A) 
- (B) 
- (C) 
- (D) 
- (E) 

45. No PowerPoint 2010, a partir da sua configuração, o

ícone  permite inserir um gráfico em uma apresentação que está sendo editada. Assinale a alternativa correta com o nome do guia que contém esse ícone.

- (A) Arquivo.
- (B) Exibição.
- (C) Design.
- (D) Inserir.
- (E) Página Inicial.

46. A figura a seguir apresenta o conteúdo da Biblioteca Documentos por meio do Windows Explorer do MS-Windows 7, a partir da sua configuração padrão.



Assinale a alternativa correta sobre o conteúdo da Biblioteca apresentada.

- (A) Existem 2 atalhos, 1 arquivo do Word, 1 planilha do Excel, 2 Pastas sendo que a pasta COLETANEAS está vazia.
- (B) Existem 2 atalhos, 1 arquivo do Word, 1 planilha do Excel, 2 Pastas sendo que as duas pastas estão vazias.
- (C) Existem 3 atalhos, 1 arquivo do Word e 2 Pastas sendo que na pasta COLETANEAS existe 1 atalho.
- (D) Existem 2 atalhos, 1 arquivo do Word, 1 arquivo do Excel e 2 Pastas sendo que a pasta Teste está vazia.
- (E) Existem 3 atalhos, 1 arquivo do Word e 2 Pastas.

47. No PowerPoint 2010, a partir da sua configuração padrão, na guia “apresentação de Slides, no grupo “Configurar” existem 4 ícones, conforme ilustra a figura. Cada ícone efetua uma ação.



Assinale a alternativa correta que contém discriminadas as ações de cada ícone.

- (A) Ícone 1 – Configurar Apresentação de Slides  
Ícone 2 – Ocultar Slide  
Ícone 3 – Testar Transições  
Ícone 4 – Testar Intervalos
- (B) Ícone 1 – Configurar Apresentação de Slides  
Ícone 2 – Ocultar Slide  
Ícone 3 – Testar Intervalos  
Ícone 4 – Gravar Apresentação de Slides
- (C) Ícone 1 – Ocultar Slide  
Ícone 2 – Configurar Apresentação de Slides  
Ícone 3 – Testar Transições  
Ícone 4 – Testar Intervalos
- (D) Ícone 1 – Configurar Apresentação de Slides  
Ícone 2 – Ocultar Slide  
Ícone 3 – Gravar Apresentação de Slides  
Ícone 4 – Testar Intervalos
- (E) Ícone 1 – Configurar Apresentação de Slides  
Ícone 2 – Testar Transições  
Ícone 3 – Gravar Apresentação de Slides  
Ícone 4 – Testar Intervalos
48. No Windows 7, a partir da sua configuração padrão, a aplicação chamada “Notas Autoadesivas” está contida na pasta \_\_\_\_\_, bem como a “Calculadora”.

Assinale a alternativa que preenche corretamente a lacuna.

- (A) Aplicações
- (B) Opções
- (C) Acessibilidade
- (D) Acessórios
- (E) Painel de Programas

49. Durante a preparação de um e-mail, foram digitados:

Campo “Para”, os seguintes endereços eletrônicos:  
jose@ gmail.com; solange@@yahoo.com.br

Campo “Cc”, os seguintes endereços eletrônicos:  
sergiosolano.globo.com; sac\_cliente@gmail.com

Campo “Cco”, sem nenhum endereço eletrônico.

Campo “Assunto” ficou sem preenchimento.

Assinale a alternativa que contém afirmativa verdadeira.

- (A) Os endereços eletrônicos digitados no campo “Para” e “Cc” estão corretos.
- (B) O campo “Cco” e “Assunto” são de preenchimentos obrigatórios.
- (C) O endereço eletrônico: sac\_cliente@gmail.com está correto.
- (D) O campo “Cc” foi preenchido porque é de preenchimento obrigatório.
- (E) O endereço eletrônico sergiosolano.globo.com é válido.
50. No Internet Explorer versão 11, a partir da sua configuração padrão, a tecla de atalho que permite atualizar uma página da Web que está sendo exibida é
- (A) F1
- (B) F2
- (C) F3
- (D) F4
- (E) F5

## REDAÇÃO

### TEXTO 1

As penas privativas de liberdade têm se revelado eficazes na contenção criminal. Os números do Mapa da Violência no Brasil, parâmetro mais utilizado oficialmente pelo Ministério da Justiça, demonstram que a criminalidade vem aumentando significativamente no país nos últimos anos, à exceção do estado de São Paulo, onde apresentaram redução.

O que levou o estado a destoar positivamente do resto do país não foram penas alternativas. Desde 1999, a segurança pública em São Paulo passou a se pautar no fortalecimento da ação policial, conduzindo a mais prisões. Pouco mais de uma década depois, o estado, que conta com aproximadamente 11% da população brasileira, respondia por 40% da população carcerária.

Números assim, indicando aumento de prisões e queda na criminalidade, não fortalecem a corrente das penas alternativas.

O caminho deveria ser criar novas vagas no sistema carcerário, fazer com que a lotação máxima dos presídios seja respeitada e que os presos sejam separados de acordo com suas condenações e grau de periculosidade.

Adotar penas alternativas sob o pretexto de esvaziar presídios é a receita da catástrofe. Deixar de prender simplesmente porque não há mais onde não é alternativa, é impunidade.

(Fabrício Rebelo. *Alternativa ou impunidade?* <http://jus.com.br>. Adaptado)

### TEXTO 2

Para a socióloga Julita Lemgruber, diretora do Centro de Estudos de Segurança e Cidadania da Universidade Cândido Mendes, no Rio de Janeiro, manter encarcerados os infratores pouco perigosos e pouco violentos é um péssimo negócio para o contribuinte, cujo dinheiro poderia ser aplicado em educação, saúde, profissionalização – enfim, em projetos que podem ajudar a prevenir a criminalidade. As tais alternativas, hoje, resumem-se a: prestação de serviços à comunidade; limitação de fim de semana; interdição temporária de direitos e multas.

Julita não concorda com a tese que ganhou força no país de que a população brasileira quer ver todo criminoso na cadeia. Segundo ela, quando a população é informada sobre o assunto, percebe as vantagens da pena alternativa.

#### **SUPERINTERESSANTE: Que preso está apto a cumprir uma pena alternativa?**

**JULITA LEMGRUBER:** Quem não cometeu crime violento não deve ir para a prisão. Como crime violento entendo homicídio, estupro, sequestro, latrocínio e roubo com características violentas.

#### **S: Quais são as principais penas alternativas?**

**JL:** A principal é a prestação de serviços à comunidade. A comunidade só sai ganhando: além de o condenado não estar ocupando um espaço indevido numa cadeia, sustentado pelo dinheiro do contribuinte, os cidadãos ainda vão receber uma prestação de serviço. Visitei escolas no Zimbábue (África) em que condenados plantavam hortas e, com o dinheiro obtido com a venda dos vegetais, compravam material escolar. De 1992 a 1997, o Zimbábue conseguiu reduzir sua população prisional de 22 000 para 18 000 presos. No mesmo período, 15 000 infratores realizaram tarefas não remuneradas para a comunidade. Em média, houve uma economia anual de 5 milhões de dólares, se for computado o que deixou de ser gasto mantendo na prisão quem podia ser punido de outra forma e o que deixou de ser pago nas tarefas executadas pelos prestadores de serviços. Além disso, o nível de reincidência dos prestadores de serviço foi significativamente mais baixo do que o apresentado por aqueles que cumpriram penas de prisão.

(Superinteressante. *Nem todo criminoso precisa ir à cadeia.* <http://super.abril.com.br>. Adaptado)

Com base nos textos e em seus conhecimentos, escreva uma dissertação, empregando a norma-padrão da língua portuguesa, sobre o seguinte tema:

**PRIVAÇÃO DE LIBERDADE OU PENAS ALTERNATIVAS:  
QUAL O MODO MAIS EFICIENTE DE DIMINUIR A CRIMINALIDADE?**

## REDAÇÃO

Em hipótese alguma será considerado o texto escrito neste espaço.

RASCUNHO


**NÃO ASSINE ESTA FOLHA**











CMRP1401



02017001

**CÂMARA MUNICIPAL DE SÃO JOSÉ DO RIO PRETO**

ESTADO DE SÃO PAULO

CONCURSO PÚBLICO

**017. PROVA DE REDAÇÃO**  
**(Folha de Redação)****AGENTE LEGISLATIVO / AGENTE PARLAMENTAR DE PESSOAL / REDATOR LEGISLATIVO**

- ◆ Confira seus dados impressos nesta folha e assine apenas no local indicado.
- ◆ Destaque esta folha com cuidado e entregue ao fiscal juntamente com os outros materiais ao sair.
- ◆ Fique atento às demais orientações contidas na capa da prova objetiva.

Nome do candidato

Prédio

Sala

Carteira


Inscrição

USO EXCLUSIVO DO FISCAL

AUSENTE

☐

Assinatura do candidato



CMRP1401

## REDAÇÃO

## Texto definitivo



02017002

**NÃO ASSINE ESTA PÁGINA**